

# PROBLEMAS MATEMÁTICOS



Nombre:

---

# Sumas hasta 20

Calcula las sumas.



$7 + 5 =$

$13 + 5 =$

$17 - 5 =$

$8 + 7 =$

$3 + 12 =$

$14 - 3 =$

$7 + 4 =$

$18 + 1 =$

$19 - 2 =$

$8 + 2 =$

$12 + 7 =$

$16 - 4 =$

$4 + 7 =$

$13 + 3 =$

$17 - 3 =$

$2 + 7 =$

$14 + 5 =$

$13 - 5 =$

$2 + 5 =$

$15 + 3 =$

$16 - 9 =$

$3 + 7 =$

$12 + 8 =$

$19 - 9 =$

$6 + 5 =$

$14 + 6 =$

$17 - 8 =$

$6 + 9 =$

$16 + 4 =$

$15 - 6 =$

$8 + 9 =$

$9 + 9 =$

$14 - 7 =$

$9 + 4 =$

$7 + 7 =$

$16 - 8 =$

$2 + 9 =$

$8 + 8 =$

$18 - 9 =$

$4 + 5 =$

$5 + 5 =$

$12 - 6 =$

$5 + 7 =$

$6 + 6 =$

$18 - 7 =$

¿Listo? Practica problemas de matemáticas en [www.problemas-matematicos.es](http://www.problemas-matematicos.es)  
Luego, ¡puedes jugar un juego de matemáticas!

# Problemas de matemáticas



Lee los relatos y calcula las sumas.  
Haz un dibujo del problema o escribe la suma.

1. Lee los relatos y calcula las sumas.  
Haz un dibujo del problema o escribe la suma \_\_\_\_\_ patas


2. Un insecto tiene 6 patas.  
¿Cuántas patas tienen 3 insectos juntos? \_\_\_\_\_ patas

3. Una guitarra tiene 6 cuerdas.  
¿Cuántas cuerdas tienen 2 guitarras? \_\_\_\_\_ cuerdas

4. Hay 3 paquetes con 5 marcadores.  
¿Cuántos marcadores son en total? \_\_\_\_\_ marcadores

# Sumas manchadas

Flip ha derramado tinta.  
Calcula las sumas.



$15 + \text{mancha} = 20$

$17 + \text{mancha} = 20$

$15 + \text{mancha} = 25$

$15 + \text{mancha} = 25$

$32 + \text{mancha} = 35$

$45 + \text{mancha} = 55$

$13 + \text{mancha} = 20$

$15 + \text{mancha} = 20$

$65 + \text{mancha} = 75$

$25 + \text{mancha} = 30$

$32 + \text{mancha} = 40$

$35 + \text{mancha} = 55$

$42 + \text{mancha} = 50$

$43 + \text{mancha} = 50$

$45 + \text{mancha} = 65$

$51 + \text{mancha} = 60$


$76 + \text{mancha} = 80$

$75 + \text{mancha} = 85$

¿Listo? Practica problemas de matemáticas en [www.problemas-matematicos.es](http://www.problemas-matematicos.es)  
Luego, ¡puedes jugar un juego de matemáticas!

# Problemas de matemáticas

1. En el árbol hay 15 manzanas.  
Joep recoge 7 manzanas.  
¿Cuántas manzanas quedan en el árbol?

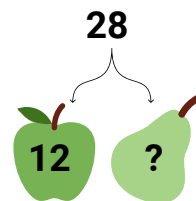


\_\_\_\_\_ manzanas

2. Hay 45 pájaros en un árbol.  
25 pájaros vuelan.  
¿Cuántos pájaros quedan?

\_\_\_\_\_ pájaros

3. El granjero tiene 28 manzanas y peras.  
Él tiene 12 manzanas.  
¿Cuántas peras tiene el granjero?




\_\_\_\_\_ peras

4. En el autobús hay 36 niños.  
16 niños son niñas.  
¿Cuántos niños hay en el autobús?

\_\_\_\_\_ niños

5. Un oso de peluche cuesta €8.  
Fee compra 2.  
¿Cuánto dinero debe pagar Fee?




\_\_\_\_\_ euros

¿Listo? Practica problemas de matemáticas en [www.problemas-matematicos.es](http://www.problemas-matematicos.es)  
Luego, ¡puedes jugar un juego de matemáticas!

# Sumas manchadas

Flip ha derramado tinta.  
Resuelve las sumas.



$20 - \text{mancha} = 10$

$55 - \text{mancha} = 45$

$50 - \text{mancha} = 25$

$20 - \text{mancha} = 13$

$25 - \text{mancha} = 15$

$60 - \text{mancha} = 30$

$20 - \text{mancha} = 17$

$35 - \text{mancha} = 15$

$30 - \text{mancha} = 15$

$30 - \text{mancha} = 25$

$40 - \text{mancha} = 35$

$45 - \text{mancha} = 25$

$30 - \text{mancha} = 22$

$60 - \text{mancha} = 40$

$27 - \text{mancha} = 21$

$30 - \text{mancha} = 24$


$40 - \text{mancha} = 10$

$25 - \text{mancha} = 18$

¿Listo? Practica problemas de matemáticas en [www.problemas-matematicos.es](http://www.problemas-matematicos.es)  
Luego, ¡puedes jugar un juego de matemáticas!

# Problemas de matemáticas

1. La maestra lee un libro de 41 páginas.  
Está en la página 39.  
¿Cuántas páginas le quedan por leer a la maestra?




\_\_\_\_\_ páginas

2. Hay 35 pájaros en el árbol.  
Llegan 10 pájaros y se van 3 pájaros.  
¿Cuántos pájaros hay en el árbol?

\_\_\_\_\_ pájaros

3. Nora ahorra para unos patines que cuestan €38.  
Ya tiene €29.  
¿Cuánto dinero necesita todavía?



\_\_\_\_\_ euros

4. En el autobús hay 36 niños.  
Primero se bajan 5 personas y luego suben 7 personas.  
¿Cuántas personas hay en el autobús?

\_\_\_\_\_ personas

5. En la fiesta hay 23 globos rojos y amarillos.  
12 globos son rojos.  
¿Cuántos globos amarillos hay?



\_\_\_\_\_ globos

¿Listo? Practica problemas de matemáticas en [www.problemas-matematicos.es](http://www.problemas-matematicos.es)  
Luego, ¡puedes jugar un juego de matemáticas!

# Calcula

¿Cuánto cuesta en total?

Escribe la multiplicación y la respuesta.



Multiplicación: \_\_\_\_\_

Repuestas: \_\_\_\_\_ euros



Multiplicación: \_\_\_\_\_

Repuestas: \_\_\_\_\_ euros



Multiplicación: \_\_\_\_\_

Repuestas: \_\_\_\_\_ euros

¿Listo? Practica problemas de matemáticas en [www.problemas-matematicos.es](http://www.problemas-matematicos.es)  
Luego, ¡puedes jugar un juego de matemáticas!



# Dibuja la historia

Inventa una historia con la suma y resuelve la suma.  
Puedes dibujar o escribir la historia.



$$3 \times 3 =$$

$$7 \times 2 =$$

$$4 \times 6 =$$

$$3 \times 5 =$$

¿Listo? Practica problemas de matemáticas en [www.problemas-matematicos.es](http://www.problemas-matematicos.es)  
Luego, ¡puedes jugar un juego de matemáticas!

# Repuestas

Calcula las sumas.



$7 + 5 = 12$

$8 + 7 = 15$

$7 + 4 = 11$

$8 + 2 = 10$

$4 + 7 = 11$

$13 + 5 = 18$

$3 + 12 = 15$

$18 + 1 = 19$

$12 + 7 = 19$

$13 + 3 = 16$

$17 - 5 = 12$

$14 - 3 = 11$

$19 - 2 = 17$

$16 - 4 = 12$

$17 - 3 = 14$

$2 + 7 = 9$

$2 + 5 = 7$

$3 + 7 = 10$

$6 + 5 = 11$

$6 + 9 = 15$

$14 + 5 = 19$

$15 + 3 = 18$

$12 + 8 = 20$

$14 + 6 = 20$

$16 + 4 = 20$

$13 - 5 = 8$

$16 - 9 = 7$

$19 - 9 = 10$

$17 - 8 = 9$

$15 - 6 = 9$

$8 + 9 = 17$

$9 + 4 = 13$

$2 + 9 = 11$

$4 + 5 = 9$

$5 + 7 = 12$

$9 + 9 = 18$

$7 + 7 = 14$

$8 + 8 = 16$

$5 + 5 = 10$

$6 + 6 = 12$

$14 - 7 = 7$

$16 - 8 = 8$

$18 - 9 = 9$

$12 - 6 = 6$

$18 - 7 = 11$

¿Listo? Practica problemas de matemáticas en [www.problemas-matematicos.es](http://www.problemas-matematicos.es)  
Luego, ¡puedes jugar un juego de matemáticas!

# Repuestas



Lee los relatos y calcula las sumas.  
Haz un dibujo del problema o escribe la suma.

1. Lee los relatos y calcula las sumas.  
Haz un dibujo del problema o escribe la suma 18 patas

6	6	6
---	---	---

2. Un insecto tiene 6 patas.  
¿Cuántas patas tienen 3 insectos juntos? 20 patas

4	4	4	4	4
---	---	---	---	---

3. Una guitarra tiene 6 cuerdas.  
¿Cuántas cuerdas tienen 2 guitarras? 12 cuerdas


6	6
---	---

4. Hay 3 paquetes con 5 marcadores.  
¿Cuántos marcadores son en total? 15 marcadores

5	5	5
---	---	---

# Repuestas

Flip ha derramado tinta.  
Calcula las sumas.



$$15 + 5 = 20$$

$$17 + 3 = 20$$

$$15 + 10 = 25$$

$$15 + 10 = 25$$

$$32 + 3 = 35$$

$$45 + 10 = 55$$

$$13 + 7 = 20$$

$$15 + 5 = 20$$

$$65 + 10 = 75$$

$$25 + 5 = 30$$

$$32 + 8 = 40$$

$$35 + 20 = 55$$

$$42 + 8 = 50$$

$$43 + 7 = 50$$

$$45 + 20 = 65$$

$$51 + 9 = 60$$


$$76 + 4 = 80$$

$$75 + 10 = 85$$

¿Listo? Practica problemas de matemáticas en [www.problemas-matematicos.es](http://www.problemas-matematicos.es)  
Luego, ¡puedes jugar un juego de matemáticas!

# Repuestas

1. En el árbol hay 15 manzanas.  
Joep recoge 7 manzanas.  
¿Cuántas manzanas quedan en el árbol?

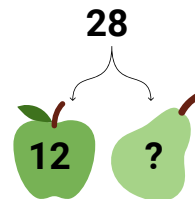


8 manzanas

2. Hay 45 pájaros en un árbol.  
25 pájaros vuelan.  
¿Cuántos pájaros quedan?

20 pájaros

3. El granjero tiene 28 manzanas y peras.  
Él tiene 12 manzanas.  
¿Cuántas peras tiene el granjero?




16 peras

4. En el autobús hay 36 niños.  
16 niños son niñas.  
¿Cuántos niños hay en el autobús?

20 niños

5. Un oso de peluche cuesta €8.  
Fee compra 2.  
¿Cuánto dinero debe pagar Fee?



16 euros

¿Listo? Practica problemas de matemáticas en [www.problemas-matematicos.es](http://www.problemas-matematicos.es)  
Luego, ¡puedes jugar un juego de matemáticas!

# Repuestas

Flip ha derramado tinta.  
Calcula las sumas.



$$20 - 10 = 10$$

$$55 - 10 = 45$$

$$50 - 25 = 25$$

$$20 - 7 = 13$$

$$25 - 10 = 15$$

$$60 - 30 = 30$$

$$20 - 3 = 17$$

$$35 - 20 = 15$$

$$30 - 15 = 15$$

$$30 - 5 = 25$$

$$40 - 5 = 35$$

$$45 - 20 = 25$$

$$30 - 8 = 22$$

$$60 - 20 = 40$$

$$27 - 6 = 21$$

$$30 - 6 = 24$$


$$40 - 30 = 10$$

$$25 - 7 = 18$$

¿Listo? Practica problemas de matemáticas en [www.problemas-matematicos.es](http://www.problemas-matematicos.es)  
Luego, ¡puedes jugar un juego de matemáticas!

# Repuestas

1. La maestra lee un libro de 41 páginas.  
Está en la página 39.  
¿Cuántas páginas le quedan por leer a la maestra?




2 páginas

2. Hay 35 pájaros en el árbol.  
Llegan 10 pájaros y se van 3 pájaros.  
¿Cuántos pájaros hay en el árbol?

42 pájaros

3. Nora ahorra para unos patines que cuestan €38.  
Ya tiene €29.  
¿Cuánto dinero necesita todavía?



9 euros

4. En el autobús hay 36 niños.  
Primero se bajan 5 personas y luego suben 7 personas.  
¿Cuántas personas hay en el autobús?

38 personas

5. En la fiesta hay 23 globos rojos y amarillos.  
12 globos son rojos.  
¿Cuántos globos amarillos hay?



11 globos

¿Listo? Practica problemas de matemáticas en [www.problemas-matematicos.es](http://www.problemas-matematicos.es)  
Luego, ¡puedes jugar un juego de matemáticas!

# Repuestas

¿Cuánto cuesta en total?

Escribe la multiplicación y la respuesta.



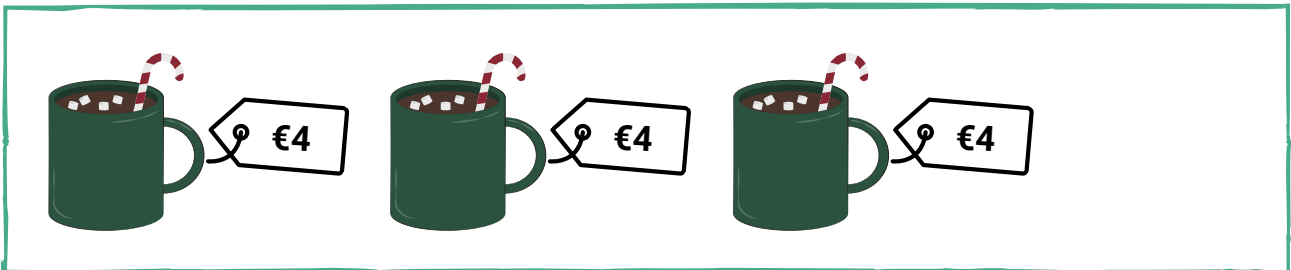
Multiplicación:  $3 \times 2 =$  \_\_\_\_\_

Repuestas: 6 \_\_\_\_\_ euros



Multiplicación:  $4 \times 6 =$  \_\_\_\_\_

Repuestas: 24 \_\_\_\_\_ euros



Multiplicación:  $3 \times 4 =$  \_\_\_\_\_

Repuestas: 12 \_\_\_\_\_ euros

¿Listo? Practica problemas de matemáticas en [www.problemas-matematicos.es](http://www.problemas-matematicos.es)  
Luego, ¡puedes jugar un juego de matemáticas!



# Repuestas

Inventa una historia con la suma y resuelve la suma.  
Puedes dibujar o escribir la historia.



$$3 \times 3 = 9$$



$$7 \times 2 = 14$$



$$4 \times 6 = 24$$



$$3 \times 5 = 15$$



¿Listo? Practica problemas de matemáticas en [www.problemas-matematicos.es](http://www.problemas-matematicos.es)  
Luego, ¡puedes jugar un juego de matemáticas!