

# PROBLEMAS MATEMÁTICOS



Nombre:

---

# Sumas hasta 20



Resuelve las sumas.

$8 + 4 =$

$12 + 7 =$

$19 - 5 =$

$8 + 5 =$

$2 + 12 =$

$15 - 9 =$

$6 + 3 =$

$16 + 3 =$

$17 - 8 =$

$7 + 7 =$

$11 + 7 =$

$16 - 7 =$

$7 + 5 =$

$9 + 11 =$

$15 - 6 =$

$9 + 2 =$

$15 + 5 =$

$13 - 5 =$

$9 + 5 =$

$13 + 3 =$

$15 - 8 =$

$2 + 7 =$

$11 + 8 =$

$19 - 9 =$

$3 + 5 =$

$13 + 6 =$

$17 - 9 =$

$2 + 9 =$

$10 + 4 =$

$15 - 4 =$

$8 + 8 =$

$9 + 9 =$

$14 - 7 =$

$7 + 7 =$

$7 + 7 =$

$16 - 8 =$

$7 + 8 =$

$8 + 8 =$

$18 - 9 =$

$5 + 5 =$

$5 + 5 =$

$12 - 6 =$

$5 + 6 =$

$6 + 6 =$

$18 - 7 =$

¿Listo? Practica problemas de matemáticas en [www.problemas-matematicos.es](http://www.problemas-matematicos.es)  
Luego, ¡puedes jugar un juego de matemáticas!

# Problemas de Matemáticas



Lee las historias y resuelve las sumas.  
Haz un dibujo junto a la suma o escribe la suma.

1. Un coche tiene 4 ruedas.

¿Cuántas ruedas tienen 6 coches en total? \_\_\_\_\_ ruedas

2. Hay 6 galletas en una caja.

¿Cuántas galletas hay en total en 7 cajas? \_\_\_\_\_ galletas

3. Hay 6 bolsas con 3 canicas.


¿Cuántas canicas son en total? \_\_\_\_\_ canicas

4. Hay 4 torres de 8 bloques.

¿Cuántos bloques son en total? \_\_\_\_\_ bloques

# Sumas manchadas

Juan ha derramado tinta.  
Resuelve las sumas.



$15 + \text{mancha} = 25$

$39 + \text{mancha} = 80$

$44 + \text{mancha} = 80$

$23 + \text{mancha} = 30$

$32 + \text{mancha} = 70$

$25 + \text{mancha} = 65$

$23 + \text{mancha} = 40$

$15 + \text{mancha} = 40$

$33 + \text{mancha} = 75$

$36 + \text{mancha} = 40$

$62 + \text{mancha} = 82$

$16 + \text{mancha} = 35$

$48 + \text{mancha} = 52$

$43 + \text{mancha} = 63$

$45 + \text{mancha} = 65$

$51 + \text{mancha} = 60$


$76 + \text{mancha} = 86$

$65 + \text{mancha} = 82$

¿Listo? Practica problemas de matemáticas en [www.problemas-matematicos.es](http://www.problemas-matematicos.es)  
Luego, ¡puedes jugar un juego de matemáticas!

# Problemas de matemáticas

1. Juan compra 3 paquetes de galletas.  
En cada paquete hay 6 galletas.  
¿Cuántas galletas son en total?



\_\_\_\_\_ galletas

2. En el tren hay 64 personas.  
Primero bajan 5 personas y luego suben 12 personas.  
¿Cuántas personas hay ahora en el tren?

\_\_\_\_\_ personas

3. 9 niños compran un helado.  
Cada niño elige un helado con 3 bolas.  
¿Cuántas bolas son en total?




\_\_\_\_\_ bolas

4. En el grupo 4A hay 26 niños.  
En el grupo 4B hay 32 niños.  
¿Cuántos niños son en total?

\_\_\_\_\_ niños

5. En cada racimo hay 4 bananas.  
El maestro compra 7 racimos.  
¿Cuántas bananas son en total?



\_\_\_\_\_ bananas

¿Listo? Practica problemas de matemáticas en [www.problemas-matematicos.es](http://www.problemas-matematicos.es)  
Luego, ¡puedes jugar un juego de matemáticas!

# Problemas de matemáticas



Haz un dibujo de la suma. Luego calcula la suma.

1. Hugo distribuye 15 caramelos en 3 bolsas.

¿Cuántos caramelos hay en cada bolsa? \_\_\_\_\_ caramelos

2. Elia pone 40 rotuladores en cajas de 5.

¿Cuántas cajas puede llenar? \_\_\_\_\_ cajas

3. Ruben distribuye 24 cuentas entre 8 niños


¿Cuántas cuentas recibe cada niño? \_\_\_\_\_ cuentas

4. Coco pone 25 huevos en cajas de 5.

¿Cuántas cajas puede llenar Saar? \_\_\_\_\_ cajas

# Sumas manchadas

Javi ha derramado tinta.  
Resuelve las sumas.



$25 - \text{mancha} = 10$

$65 - \text{mancha} = 45$

$46 - \text{mancha} = 35$

$35 - \text{mancha} = 15$

$40 - \text{mancha} = 15$

$60 - \text{mancha} = 38$

$40 - \text{mancha} = 20$

$32 - \text{mancha} = 25$

$38 - \text{mancha} = 29$

$60 - \text{mancha} = 25$

$45 - \text{mancha} = 5$

$45 - \text{mancha} = 39$

$50 - \text{mancha} = 22$

$60 - \text{mancha} = 40$

$56 - \text{mancha} = 38$

$30 - \text{mancha} = 15$


$44 - \text{mancha} = 33$

$71 - \text{mancha} = 58$

¿Listo? Practica problemas de matemáticas en [www.problemas-matematicos.es](http://www.problemas-matematicos.es)  
Luego, ¡puedes jugar un juego de matemáticas!

# Problemas de matemáticas

1. Eloy está leyendo un libro de 46 páginas.  
Está en la página 29.  
¿Cuántas páginas le quedan por leer?



\_\_\_\_\_ páginas

2. En el árbol hay 35 pájaros.  
17 pájaros se van volando.  
¿Cuántos pájaros quedan en el árbol?

\_\_\_\_\_ pájaros

3. En el grupo 4 hay 26 niños.  
La mitad de los niños usa gafas.  
¿Cuántos niños usan gafas?




\_\_\_\_\_ niños

4. La tabla de Mano mide 16 centímetros de largo.  
La tabla de Antonio es el doble de larga.  
¿Cuánto mide la tabla de Antonio?

\_\_\_\_\_ centímetros

5. Hay 65 crayones rojos y azules.  
34 crayones son rojos.  
¿Cuántos crayones azules hay?



\_\_\_\_\_ crayones

¿Listo? Practica problemas de matemáticas en [www.problemas-matematicos.es](http://www.problemas-matematicos.es)  
Luego, ¡puedes jugar un juego de matemáticas!



# Dibuja la historia

Inventa una historia con la suma y resuelve la suma.  
Puedes dibujar o escribir la historia.



$$6 \times 7 =$$

$$3 \times 8 =$$

$$5 \times 7 =$$

$$4 \times 9 =$$

¿Listo? Practica problemas de matemáticas en [www.problemas-matematicos.es](http://www.problemas-matematicos.es)  
Luego, ¡puedes jugar un juego de matemáticas!

